



第二单元检测卷

(时间:60 分钟 分数:_____)

一、连一连。(8 分)



大约 9 时

1 时半

大约 3 时

12 时

二、填一填。(16 分)



1. 钟面上有()个数字,长针是()针,短针是()针。这个钟面上的时刻是()时。

2. 钟面上的分针指着 12, 时针指着 2, 这时的时刻是()时。

3. 钟面上时针在 7 和 8 之间, 分针指向 6, 这时的时刻是()。

4. 小明每天快 6 时起床, 小红每天 6 时半起床, ()起得早, ()起得晚。

三、写一写。(16 分)



()时



()时



大约()时



()时






() 时半

() 时

大约() 时

() 时


四、小动物读得对吗? 对的画“ ”, 错的画“×”, 并改正。(12分)



五、写出钟面上的时刻。(10分)



六、看时刻, 画一画。(12分)




11 时



2 时半



快到 8 时



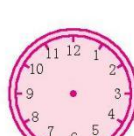
10 时刚过

七、找规律, 画一画。(10分)

1.



2.






八、解决问题。(16分)

1. 小兔子兄弟俩采完蘑菇回家了,谁先到家呢?在□里画“√”。

(8分)



2. 下面是三个同学写完作业的时间,谁写完得最早,就在钟面下

面画“√”。(8分)



()



()



()





第二单元检测卷

一、钟面上的时刻分别是 1 时半、12 时、大约 9 时、大约 3 时 连线略

二、1. 12 分 时 7 2. 2 3. 7 时半 4. 小明 小红

三、3 12 9 7 2 4 7 11

四、√ × 6 时 × 5 时刚过(大约 5 时) × 快 4 时(大约 4 时)

五、7 时 8 时 12 时 4 时 6 时半

六、略

七、1. 提示:画 11 时 2. 提示:画 3 时

八、1. 2. (√)()()

