



第七单元达标测试卷

一、填空题。(5题16分，6题3分，其余每空1分，共32分)

1. 把1米平均分成10份，这样的6份是 $\left(\frac{6}{10}\right)$ 米，用小数表示是()米。

2. 按规律填写。

(1) 0.5, 0.6, 0.7, (), 0.9, 1.0。

(2) 0.2, 0.8, 1.4, (), 2.6, 3.2。

3. 读一读，写一写。

(1) 一支钢笔 7.9 元钱。横线上的数读作：()。

(2) 爸爸的体重是 六十点五 千克。横线上的数写作：()。

(3) 一只鸵鸟每小时可以跑 五十四点四 千米。横线上的数写作：

()。

4. 在()里填上合适的数。

0.5 元 = () 角

3 元 8 角 = () 元

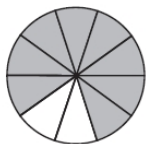
6 分米 = () 米

5.4 元 = () 元 () 角

3.6 米 = () 分米

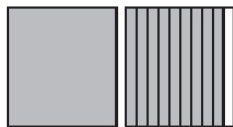
5. 看图写数。

(1)



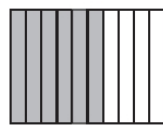
分数： $\frac{5}{8}$

小数：()



分数： $\frac{3}{10}$

小数：()



分数： $\frac{7}{10}$

小数：()

(2) ①



②





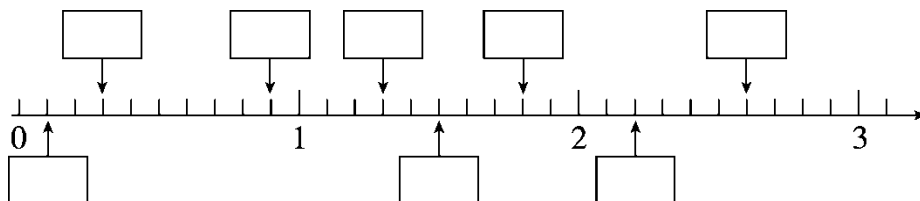
()元()角

()元()角

()元(填小数)

()元(填小数)

(3) 填上合适的小数。



6. 在○里填上“>”“<”或“=”。

$1.8 \bigcirc 1.9$

$4.5 \bigcirc 5.4$

$\frac{3}{10} \bigcirc 0.3$

$1 \bigcirc \frac{9}{10}$

$2 \text{元} \bigcirc 2.0 \text{元}$

$6.5 \text{米} \bigcirc 6 \text{米} 5 \text{厘米}$

二、判断题。(每题 1 分, 共 5 分)

1. 爸爸身高 178 厘米, 写成小数是 1.78 米。 ()

2. 整数一定比小数大。 ()

3. 列竖式计算小数加减法时, 要将小数点对齐。 ()

4. 大于 0.1 而小于 0.9 的小数有 7 个。 ()

5. 0.60 读作零点六。 ()

三、计算题。(1 题 3 分, 2 题 12 分, 共 15 分)

1. 口算。

$0.3 + 0.5 =$

$1.2 + 0.6 =$

$3.8 + 1.3 =$

$4.4 - 1.2 =$

$5.0 - 0.8 =$

$9.8 - 0.9 =$





2. 列竖式计算。

$5.6 + 2.1 =$

$10 - 4.6 =$

$1.8 + 4.9 =$

$9.7 - 2.3 =$

$3.5 - 2.9 =$

$15.2 + 0.9 =$

四、做一做。(每题 4 分, 共 8 分)

1. 把下面的钱数按从大到小排列。

1.5 元 2 元 6 角 0.8 元 8 角 5 分

() > () > () > ()

2. 在 里填上合适的数。


$4.8 < 4.\square$

$6.1 > 6.\square$

$0.9 > \square.\square$

五、解决问题。(1 题 6 分, 2 题 10 分, 3 题 16 分, 4 题 8 分, 共 40 分)

1. (变式题)它们能一次过河吗?



2.



元






(1)买两样一共花多少钱？

(2)裤子比上衣便宜多少钱？

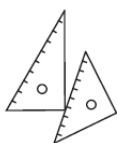
3. (变式题)购物。



5.6元



3.8元



1.2元



4.6元



68.8元



7.9元

(1)最贵的比最便宜的贵多少钱？

(2)任意选两样，算算要多少钱？

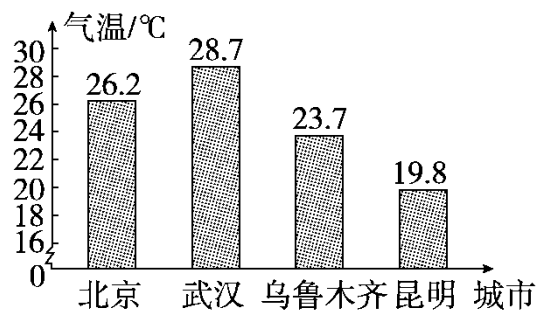
(3)文文只有 10 元钱，买了一本笔记本后还剩多少钱？





(4)你能再提一个数学问题并解答吗？

4. 下面是四个城市某月份的平均气温，你能提出两个数学问题并解答吗？





答案

一、1. $\frac{6}{10}$ 0.6

2. (1)0.8 (2)2.0

3. (1)七点九 (2)60.5 (3)54.4

4. 5 3.8 0.6 5 4 36

5. (1) $\frac{8}{10}$ $\frac{19}{10}$ $\frac{6}{10}$ 0.8 1.9 0.6

(2)①11 1 11.1 ②50 7 50.7

(3)0.1 0.3 0.9 1.3 1.5

1.8 2.2 2.6

6. < < = > = >

二、1. $\sqrt{\quad}$ 2. \times 3. $\sqrt{\quad}$ 4. \times 5. \times

三、1. 0.8 1.8 5.1 3.2 4.2 8.9

2. 7.7 5.4 6.7 7.4 0.6 16.1

四、1. 2元6角 1.5元 8角5分 0.8元

易错点拨: 2元6角=2.6元, 8角5分=0.85元。

2. $4.8 < 4.\underline{9}$ $6.1 > 6.\underline{0}$ $0.9 > \underline{0.8}$

(最后一题答案不唯一)

五、1. $15.2 + 12.3 + 3.6 = 31.1$ (千克)

$31.1 > 30$ 不能。

2. (1) $188.8 + 92.9 = 281.7$ (元)

(2) $188.8 - 92.9 = 95.9$ (元)





3. (1) $68.8 - 1.2 = 67.6$ (元)

(2)(答案不唯一) $3.8 + 5.6 = 9.4$ (元)

(3) $10 - 4.6 = 5.4$ (元)

(4)(答案不唯一)买一副三角尺和一支笔一共要多少钱?

$5.6 + 1.2 = 6.8$ (元)

4. (答案不唯一)

北京与武汉的气温相差多少?

$28.7 - 26.2 = 2.5$ ($^{\circ}\text{C}$)

最高气温比最低气温高多少?

$28.7 - 19.8 = 8.9$ ($^{\circ}\text{C}$)

