



第六单元达标测试卷

一、填空题。(每空 1 分, 共 22 分)

1. 1 年有()个月, 一般每()年有 1 个闰年。
2. 2018 年是()年, 全年共有()天, 其中二月有()天。
3. 72 小时=()日 36 个月=()年
3 分=()秒 3 小时 30 分=()分
4. 5 月份有()个星期零()天。
5. 以下是少儿频道某天的节目单的一部分:

18: 00 动画乐翻天: 赛尔号之幻梦战记

18: 30 智慧树

19: 00 动画梦工场: 豆小鸭

19: 30 大风车: 呼噜小精灵第四季

小明从 18: 00 开始看动画乐翻天, 18 时 30 分结束, 动画乐翻天共播放()分。在 19: 30 开始播放大风车, 用了 30 分钟播完, 这时是()时。

6. 小华刚满 16 岁的时候只过了 4 个生日, 他的生日是()月()日。
7. 一场足球赛从 16 时 30 分开始, 经过 1 小时 40 分, ()时()分结束。
8. 东东是 2003 年 4 月 20 日出生的, 到 2018 年生日时, 他满()周岁。





9.8月1日前一天是()月()日,6月30日后一天是()月()日。

二、判断题。(每题1分,共5分)

1. 2200年有366天。 ()
2. 18时是6时。 ()
3. 钟面上,分针一昼夜转24圈。 ()
4. 公历年份是4的倍数的一定是闰年。 ()
5. 无论平年闰年,7月、8月都是31天。 ()


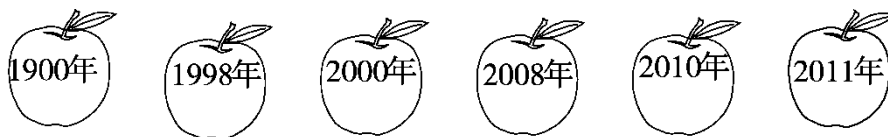
三、选择题。(每题1分,共5分)

1. 李叔叔是1976年2月29日出生的,到2017年底,他一共过了()个生日。
A. 41 B. 9 C. 10
2. 从武汉开往南昌的某列火车晚上9时出发,第二天早上6时到达,火车一共开了()小时。
A. 15 B. 9 C. 11
3. 下列年份是平年的是()。
A. 1900 B. 2000 C. 1996
4. 芳芳的生日是2月29日,她可能是()年出生的。
A. 2009 B. 2008 C. 1800
5. 中华人民共和国是1949年10月1日成立的,到2017年10月1日,正好是()周年。
A. 66 B. 67 C. 68





四、连一连。(6分)



五、照样子，填一填。(7分)

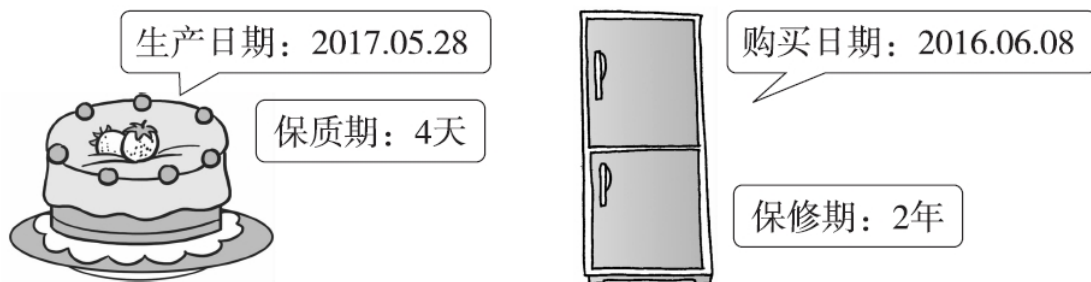
<input type="text" value="13:00"/>	<input type="text" value=""/>	<input type="text" value=""/>
下午 1 时	上午 8 时 30 分	早上 6 时 45 分
<input type="text" value="16:00"/>	<input type="text" value=""/>	<input type="text" value="7:00"/>
<input type="text" value=""/>	晚上 11 时 30 分	中午 12 时 15 分

六、下面是涛涛周末一天的安排，请填一填。(10分)

活动	开始时间	经过时间	结束时间
踢足球	6: 40	40 分	
吃早餐		30 分	8: 30
做作业	9: 40	50 分	
阅读	14: 30	1 小时 40 分	
看动画片	18: 20	50 分	

七、(变式题)辨一辨。(每题 5 分，共 10 分)





1. 2017年6月1日早晨，这蛋糕能吃吗？
2. 如果冰箱在2018年4月20日坏了，在保修期吗？

八、解决问题。(5题11分，其余每题6分，共35分)

1. 妈妈带小明去看电影《熊出没之夺宝熊兵》，从14:30开演，电影共放映了95分。电影结束时是几时几分？
2. 中心小学各年级春季植树，从3月28日到4月2日，一共植树528棵，平均每天植树多少棵？



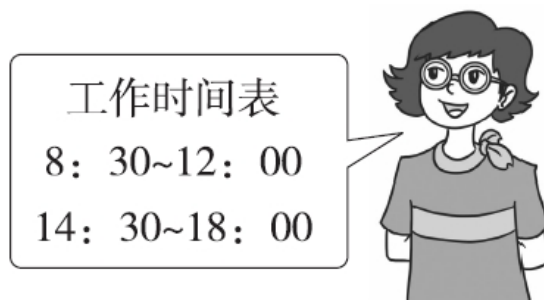


3. (变式题)小亮得了急性肺炎，医生让他每隔 4 小时服一次药。早上 8: 00 第一次服药，到晚上 8: 00 需要服几次药？请你帮他写出每次服药的时间。

服药次数	第一次			
服药时间	8: 00			

4. 南京路小学 7 月 8 日开始放暑假，9 月 1 日开学，这个学校一共放了多少天假？

5. 妈妈在一家商场上班。



(1)妈妈 14: 15 到商场，迟到了吗？

(2)妈妈一天的工作时长是多长？





(3)你还能提出其他数学问题吗？并解答。





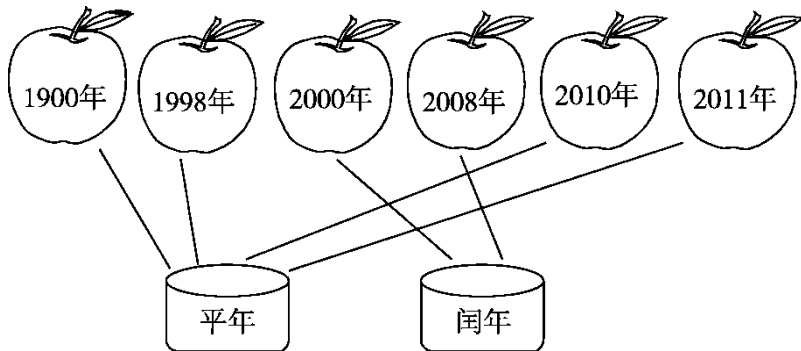
答案

- 一、1. 12 4 2. 平 365 28
3. 3 3 180 210 4. 4 3
5. 30 20 6. 2 29 7. 18 10
8. 15 9. 7 31 7 1

- 二、1. × 2. × 3. √ 4. × 5. √

- 三、1. C 2. B 3. A 4. B 5. D

四、



- 五、8: 30 晚上 11 时 6: 45

下午 4 时 23: 30 早上 7 时 12: 15

六、

活动	开始时间	经过时间	结束时间
踢足球	6: 40	40 分	7: 20
吃早餐	8: 00	30 分	8: 30
做作业	9: 40	50 分	10: 30
阅读	14: 30	1 小时 40 分	16: 10
看动画片	18: 20	50 分	19: 10

易错点拨：踢足球结束时间：6: 40+40 分=6: 80=7: 20;





吃早餐开始时间: $8:30 - 30 \text{分} = 8:00$;

做作业结束时间: $9:40 + 50 \text{分} = 9:90 = 10:30$;

阅读结束时间: $14:30 + 1 \text{小时} 40 \text{分} = 15:70 = 16:10$;

看动画片结束时间: $18:20 + 50 \text{分} = 18:70 = 19:10$ 。

七、1. $31 - 28 + 1 = 4$ (天)

$4 + 1 = 5$ (天) $5 > 4$ 不能吃。

2. 在保修期。

八、1. $95 \text{分} = 1 \text{小时} 35 \text{分}$

$14 \text{时} 30 \text{分} + 1 \text{时} 35 \text{分} = 16 \text{时} 05 \text{分}$

2. $528 \div 6 = 88$ (棵)

3. $12 \div 4 + 1 = 4$ (次)

第二次	第三次	第四次
12:00	16:00	20:00

4. $31 - 8 + 1 = 24$ (天)

$24 + 31 = 55$ (天)

5. (1)没迟到。

(2) $12:00 - 8:30 = 3 \text{小时} 30 \text{分}$

$18:00 - 14:30 = 3 \text{小时} 30 \text{分}$

$3 \text{小时} 30 \text{分} + 3 \text{小时} 30 \text{分} = 7 \text{小时}$

(3)(答案不唯一)

19:00 妈妈还上班吗? 不上。

