




第七单元检测卷

一、填一填。(15分)

1. 小数点的 () 边是整数部分, () 边是小数部分。
2. 12.10020 读作 ()
3. 十二点零五写作 (), 0.065 读作 ()。
4. 1角5分=() 元 2米2厘米=() 米
1.53元=() 分 0.98米=() 厘米
5. 5角4分写成分数是 () 元, 写成小数是 () 元。
6. 小丽高 1.40 米, 爸爸高 17 分米, 爸爸比小丽高 () 分米。
7. 按从小到大的顺序排序:
0.068、0.68、0.806、0.608、0.688

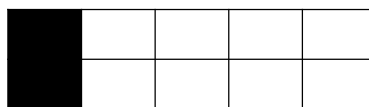
二、看图读数写数。(12分)

1、



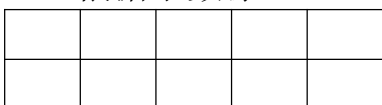
小数 () 读作 ()
() 读作 ()

2、




分数 () 读作 ()
分数 () 读作 ()

3、根据小数涂色。



0.6



0.3

小 数





三、判断对错。(12分)

- 1、小数都比整数小。 ()
- 2、0.23 里面有 23 个百分之一。 ()
- 3、比 0.2 大比 0.4 小的一位小数只有 0.3。 ()
- 4、1 米比 0.6 米多 4 厘米。 ()
- 5、24.36 读作二十四点三十六。 ()
- 6、两位小数比一位小数大。 ()

四、竖式计算。(18分)

$1.4 - 0.9 =$

$4.5 - 0.6 =$

$4.8 + 9.3 =$

$12.7 + 1.9 =$

$7.5 + 3.6 =$

$10.2 - 4.8 =$

五、列式计算。(9分)

1、甲数是 9.2, 比乙数多 2.5, 甲、乙两数的和是多少?

2、比 1.5 与 3.4 的和多 0.7 的数是多少?





3、减数是 2.5，差是 3.6，被减数是多少？

六、解决问题。（34 分）

1、一瓶油连瓶重 5.1 千克，油重 4.8 千克，瓶子多重？（4 分）

2、在一次田径世锦赛上，小王跳了 8.2 米得到铜牌，比冠军少 20 厘米，冠军跳了多少米？

3 一罐茶叶 26.60 元，一个茶杯 4.50 元，买一个茶杯和一罐茶叶，40 元够吗？（6 分）





4、小鹏身高是 1.3 米，小明比小鹏高 0.2 米，小方比小明矮 0.1 米。

(1)小明的身高是多少米？（4 分）

(2)小方的身高是多少米？（4 分）

5、一本数学书 6.5 元，比一本语文书便宜 0.5 元，两本书一共多少元？（6 分）

6、一根绳子长 7.4 米，另一根绳子比它长 0.5 米。两根绳子一共有多少米？（6 分）





答案:

一、1. 左右 2. 十二点一零零二零 3. 12.05 零点零六五 4. 0.15
2.02 153 98 5.54/100 0.54 6.3 7.0.068 < 0.608 < 0.68 <
0.688 < 0.806

二、1. 4/10 十分之四 0.4 零点四 2. 2/10 十分之二 0.2 零
点二月 3. 略

三、× √ √ × × ×

四、0.5 3.9 14.1 14.6 11.1 5.4

五、9.2-2.5=6.7 1.5+3.4+0.7=5.6 2.5+3.6=6.1

六、1、5.1-4.8=0.3 2、20厘米=0.2米 8.2+0.2=8.4(米) 3、
26.60+4.50=31.10 31.10 < 40 够 4、(1)1.3+0.2=1.5(米)
1.5-0.1=1.4(米) 5、6.5+0.5+6.5=13.5 6、7.4+0.5+7.4=15.3(米)

