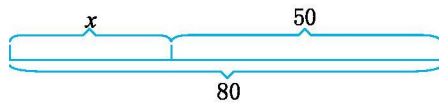




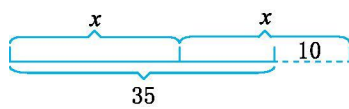
第四单元测试卷（一）

一、看图列方程，并解答。

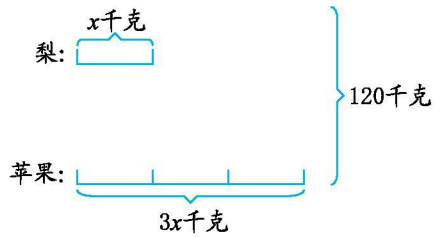
1.



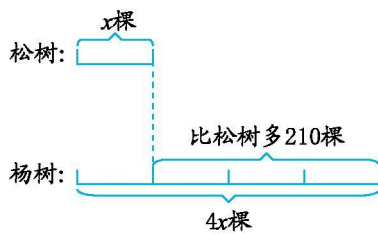
2.



3.



4.





参考答案

一、1. $x+50=80$ $x=30$

2. $2x-10=35$ $x=22.5$

3. $x+3x=120$ $x=30$ $3x=90$

4. $4x-x=210$ $x=70$ $4x=280$

二、1. 解: 设腰长 x 厘米。

$$2x+5.6=26$$

$$x=10.2$$

2. 解: 设东北虎的寿命大约是 x 年。

$$3x=75$$

$$x=25$$

3. 解: 设鸵鸟奔跑的时速大约是 x 千米。

$$3x+16=160$$

$$x=48$$

4. 解: 设保护区内大约有柳林 x 万公顷, 则怪柳林大约有 $4x$ 万公顷。

$$x+4x=1$$

$$x=0.2$$

$$4x=0.8$$

怪柳林 0.8 万公顷, 柳林 0.2 万公顷。

5. 解: 设小红平均每分钟走 x 米。

$$7(x+45)=560$$

$$x=35$$

