









第一单元检测卷

(时间:60 分钟 分数:_____)

一、连一连。(5 分)

 11-7	 16-9	 18-9	 14-9	 12-4
 8	 4	 7	 9	 5

二、比比看谁先过河。(15 分)

	15-6=	12-4=	13-4=	18-9=	15-7=
	17-8=	14-7=	15-9=	11-4=	13-8=
	12-8=	13-6=	12-3=	16-7=	11-7=

三、在○里填上“>”“<”或“=”。(8 分)

11-9○5	11-7○3	14-6○7	13-7○15-9
15-9○4	12-6○6	13-8○4	11-6○15-7

四、在括号里填上合适的数。(8 分)

()-5=8	15-()=8	()+7=11	()-6=6
()-5=6	14-()=5	9+()=17	14-()=8





五、在○里填上“+”或“-”。(16分)

$12 \bigcirc 7 = 5$

$4 \bigcirc 9 = 13$

$16 \bigcirc 7 = 9$

$11 \bigcirc 3 = 8$

$15 \bigcirc 6 = 9$

$7 \bigcirc 4 = 11$

$13 \bigcirc 7 = 6$


$12 \bigcirc 8 = 4$

六、算一算。(16分)


$3+9-7=$ $13-4-6=$ $7+4-5=$ $13-7+2=$

$9+6-8=$ $16-7+8=$ $5+6-3=$ $14-9-2=$

七、看图列式计算。(8分)

1. 


$\square \bigcirc \square = \square$ (个)

2. 

$\square \bigcirc \square = \square$ (支)

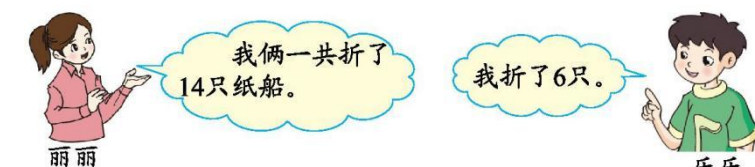
八、解决问题。(24分)

1. 房间里还有多少只小老鼠?(6分)



$\square \bigcirc \square = \square$ (只)

2. 丽丽折了几只?(6分)



$\square \bigcirc \square = \square$ (只)





3. 小猴子们一共摘了 15 个桃子, 吃了 8 个, 还剩几个?(6 分)

$$\square \bigcirc \square = \square \text{ (个)}$$

4. 第二组再植多少棵树就和第一组一样多了?(6 分)



$$\square \bigcirc \square = \square \text{ (棵)}$$





第一单元检测卷

一、算式的得数分别是 4、7、9、5、8 连线略

二、9 8 9 9 8 9 7 6 7 5 4 7 9 9 4

三、< > > = > = > <

四、13 7 4 12 11 9 8 6

五、- + - - - + - -

六、5 3 6 8 7 17 8 3

七、1. $11-5=6$ 2. $13-4=9$

八、1. $15-6=9$ 2. $14-6=8$ 3. $15-8=7$ 4. $14-9=5$

