



第七单元过关检测卷

一、填一填。(每空 2 分, 共 40 分)

- 秒针走一小格是()秒, 走一圈是()秒, 也就是()分。
分针走一小格是()分, 走一圈是()分, 也就是()时。
- 秒针从数字“2”走到数字“5”经过()秒, 分针从数字“4”走到数字“8”经过()分, 时针从数字“6”走到数字“9”经过()时。
- 体育课上, 李老师让同学们跑 50 米, 小兰用了 14 秒, 小丽用了 12 秒, 小明用了 13 秒, ()跑得最快。
- 在括号里填上合适的单位。
 - 课间操 30()。
 - 青少年每天睡眠要保证 9()。
 - 每天晚间新闻联播 7()播出, 播出时间一共 30()。
 - 12 岁的聪聪跑 100 米大约用 19()。
- $2 \text{ 时} = () \text{ 分}$ $360 \text{ 秒} = () \text{ 分}$
 $1 \text{ 时 } 40 \text{ 分} = () \text{ 分}$ $2 \text{ 分 } 20 \text{ 秒} = () \text{ 秒}$
- 爸爸晚上 6: 45 开始锻炼半小时, ()锻炼结束。

二、选一选。(将正确答案的序号填在括号里)(每题 2 分, 共 10 分)


- 文具超市上午 9: 00 开始营业, 下午 7: 00 停止营业, 营业时间是()时。
 - ① 10
 - ② 11
 - ③ 12
- 看一场杂技的时间大约是()。
 - ① 2 时
 - ② 2 分
 - ③ 2 秒





3. 右边的钟面时间是()。

- ① 9时 11分
- ② 9时 55分
- ③ 10时 55分



4. 小明每天早上 7: 25 从家出发去上学, 路上走了 15 分, 他() 到校。

- ① 8: 00
- ② 8: 40
- ③ 7: 40

5. 爸爸早上 7: 00 出门上班, 他比妈妈早出门 15 分, 妈妈早上() 出门上班。

- ① 7: 15
- ② 6: 45
- ③ 6: 50

三、判一判。(在正确的答案旁边画“√”)(每题 2 分, 共 4 分)

唱一首歌大约需要

4分

4秒

眨一下眼睛大约需要

1分

1秒

四、在○里填上“> ”“< ”或“=”。(8分)

40分○1时

6时○60分

1分○70秒

7分○60秒

8分○8时

150分○2时40分

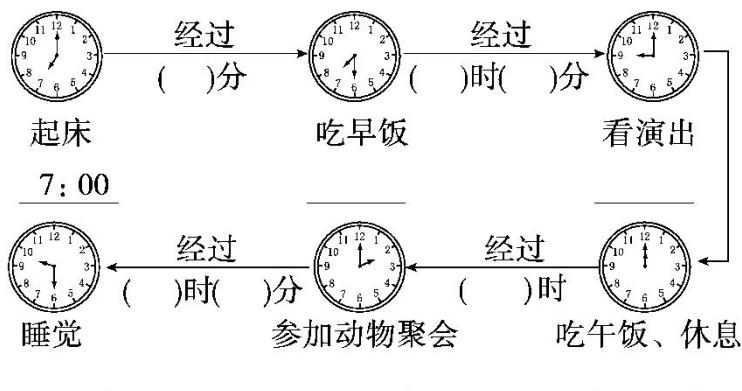
1分40秒○100秒

96分○1时30分

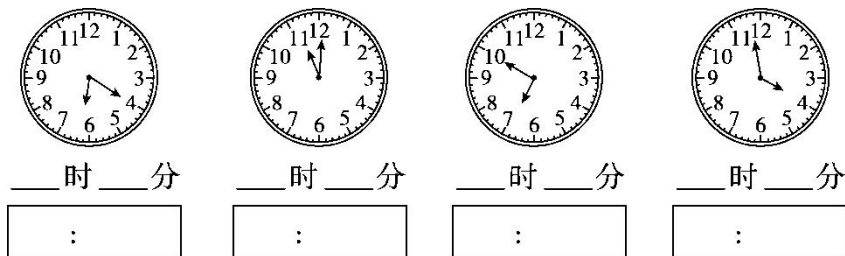




五、小狗的一天。(写出每个钟面上的时刻, 并算出经过时间)(11分)



六、看钟面, 写时间。(8分)



七、解决问题。(1题10分, 2题9分, 共19分)

1. 根据下面的作息时间表回答问题。

早读: 8:10 ~ 8:50
课间休息: 10分
第一节课: 9:00 ~ 9:40
课间操: 9:40 ~ 10:00
第二节课: 10:00 ~ 10:40
课间休息: 10分
第三节课: 10:50 ~ 11:30

(1)早读时间是多少分?

(2)课间操的时间是多少分?





(3)每节课的时间是多少分？

(4)9:30和9:50同学们分别在干什么？

2. 下面是四位同学完成手工制作的时间表。

美美	文文	东东	聪聪
56分	1时10分	49分	1时6分

(1)把他们完成手工制作的时间排一排。

() > () > () > ()

(2)完成最快的是谁？最慢的是谁？





答案

一、1. 1 60 1 1 60 1 2. 15 20 3 3. 小丽

4. (1)分 (2)时 (3)时 分 (4)秒

5. 120 6 100 140 6. 7: 15

二、1. ① 2. ① 3. ② 4. ③ 5. ①

三、4分 $\sqrt{\quad}$ 1秒 $\sqrt{\quad}$

四、< > < > < < = >

五、30 7: 30 1 30 9: 00 12: 00 2 2: 00

7 30 9: 30

六、6 20 6: 20 11 01 11: 01

6 50 6: 50 3 59 3: 59

七、1. (1)8时50分-8时10分=40分

答: 早读时间是40分。

(2)10时-9时40分=20分

答: 课间操的时间是20分。

(3)9时40分-9时=40分

答: 每节课的时间是40分。

(4)9: 30 同学们在上第一节课, 9: 50 同学们在做课间操。

2. (1)1时10分>1时6分>56分>49分

(2)完成最快的是东东, 最慢的是文文。

