




第七单元测试卷

(时间:60分钟 分数:_____)

一、数一数,说一说,写算式。(14分)



()个5,加法算式:_____

5个(),加法算式:_____



()个(),加法算式:_____

二、填一填。(28分)

1. $8+8+8+8+8+8$,相同加数是(),相同加数的个数是(),写成乘法算式是

()或()。

2. $3 \times 4 = 12$

∴ ∴ ∴

()()()

3. 3×5 读作(),表示()个()相加或()个()相加。

4. 5个1相加,用乘法表示是()或()。

三、选一选。(把正确答案的序号填在括号里)(6分)

1. 2×3 ○ $2+3$, ○里应填()。

①> ②< ③=

2. 求3个6相加是多少,错误的算式是()。

① 3×6 ② $3+6$ ③ $6+6+6$

3. $3+1+4+1+3$,可写成的乘法算式是()。

① 3×5 ② 4×5 ③ 4×3





四、辨一辨。(对的画“√”，错的画“×”)(6分)

 7+7可以写成7×7。
 ()

 2个3相加是2+3。
 ()

 5个3相加和3个5相加的结果相同。
 ()

五、先写出乘法算式，再读出来。(6分)

4个2相加
□○□=□

读作：

两个因数都是5
□○□=□

读作：

一个因数是3,另一个因数是6
□○□=□

读作：

六、改写算式。(12分)

$2+2=\square\times\square$

$6+6+6=\square\times\square$


$6+6+6+6+6=\square\times\square$

$7+7+7+7+7=\square\times\square$


$3+3+3+3=\square\times\square$

$5+5+5+5=\square\times\square$


七、看图列式计算。(12分)


 ()个()

□×□=□ 或 □×□=□


 ()个()

□×□=□ 或 □×□=□


 ()个()

□×□=□ 或 □×□=□





八、解决问题。(16分)

1. 5盘有多少个?(5分)



$$\square \times \square = \square \text{ (个)}$$

2. 一共有多少只蝴蝶?(5分)



$$\square \times \square = \square \text{ (只)}$$

3. (6分)



买这3只玩具狗
一共要用多少元?



$$\square \times \square = \square \text{ (元)}$$





第七单元测试卷

一、3 $5+5+5=15$ 3 $3+3+3+3+3=15$ 5 4 $4+4+4+4+4=20$

二、1.8 6 $8\times 6=48$ $6\times 8=48$

2. 因数 因数 积

3. 3乘5 3 5 5 3

4. 5×1 1×5

三、1. ① 2. ② 3. ③

四、 \times \times \checkmark

五、 $4\times 2=8$ 或 $2\times 4=8$ 4乘2等于8 或 2乘4等于8

$5\times 5=25$ 5乘5等于25 $3\times 6=18$ 或 $6\times 3=18$

3乘6等于18 或 6乘3等于18

六、 2×2 6×3 或 3×6 6×5 或 5×6 7×5 或 5×7

3×4 或 4×3 4×5 或 5×4

七、4 2 $2\times 4=8$ $4\times 2=8$ 3 2 $2\times 3=6$ $3\times 2=6$ 4 1 $4\times 1=4$ $1\times 4=4$

八、1. $5\times 5=25$ (个)

2. $4\times 3=12$ (只) 或 $3\times 4=12$ (只)

3. $5\times 3=15$ (元) 或 $3\times 5=15$ (元)

