



苏教版数学一年级下学期期中测试卷

(卷面满分: 100 分; 答卷时间: 50 分钟)

学校_____ 班级_____ 姓名_____ 成绩_____



1、机灵狗 开锁。(连线, 6 分)



2、小动物回家。(24 分)



$12-7=$

$3+8=$

$30+70=$

$43+4=$

$11-4=$

$18-9=$

$90-40=$

$59-7=$

$13-8=$

$14-6=$

$56-50=$

$20+35=$

$7+6=$

$12-3=$

$36+20=$

$86-6=$

$15-9=$

$10+5=$

$58-6=$


$55-5=$

$5+6-9=$

$16-9+7=$

$60+9-40=$

$54-30-2=$


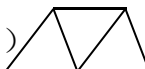




3、哪句话是正确的？请在括号里打“√”或“×”。（8分）



仔细审题噢！


- (1)  是一个长方形。…………… ()
- (2) 从右边起第二位是百位。…………… ()
- (3)  左图中有平行四边形。…………… ()
- (4) 比 90 大，比 100 小的双数一共有 4 个。()

4、小熊猫考考你啦！（12分）




$30+28 \bigcirc 28+40$	$3+35 \bigcirc 35-3$
$76-40 \bigcirc 86-30$	$65-30 \bigcirc 47-10$
$20+55 \bigcirc 2+55$	$48-4 \bigcirc 84-4$

你能填上“>”、“<”或“=”吗？

5、请在下面的方格纸上画一个正方形、一个三角形和一个平行四边形。（9分）



6、填表。（9分）


			
原有	66 副	() 个	58 副
卖出	40 副	7 个	() 副
剩下	() 副	32 个	6 副





7、(6分)

我拔了42个萝卜, 送给小灰兔20个, 我还剩多少个?



$$\square \bigcirc \square = \square \quad (\quad)$$

8、(6分)

我还要折12朵。



女孩一共要折多少朵花?

$$\square \bigcirc \square = \square \quad (\quad)$$

9、(5分)

我只踢了57个。

我再踢2个就和你一样多了。



小红



小军


小军已经踢了多少个?

$$\square \bigcirc \square = \square \quad (\quad)$$





10、原来一共有 35 个松果。(5 分)



$$\square \bigcirc \square = \square \quad (\quad)$$

11、车上原有 24 人。(5 分)



$$\square - \square + \square = \square \quad (\quad)$$

12、星期天，兔妈妈一家 15 只兔子出去春游。来到小河边，只有一只小木船，兔妈妈就先带 8 只小兔过河。这时，岸上还有多少只小兔？(5 分)





苏教版数学一年级下学期期中测试卷

参考答案及评分标准

1、机灵狗开锁。(每题 3 分, 共 6 分)

$30+40=70$, $89-3=86$, $88-40=48$

2、小动物回家。(每题 2 分, 共 24 分)

5, 11, 100, 47, 7, 9, 50, 52, 5, 8, 6, 55, 13, 9, 56, 80, 6, 15,
52, 50, 2, 14, 29, 22

3、哪句话是正确的? 请在括号里打“√”或“×”。(每题 2 分, 共 8 分)

(1) × (2) × (3) √ (4) √

4、小熊猫考考你啦!(每题 2 分, 共 12 分)

<, >, <, <, >, <

5、请在下面的方格纸上画图形。(每个图形 3 分, 共 9 分)

略

6、填表。(每空 3 分, 共 9 分)

26, 39, 52

7、(6 分)

$42-20=22$ (个)

8、(6 分)

$20+12=32$ (朵)

9、(5 分)

$57-2=55$ (个)

10、(5 分)

$35-20=15$ (个)

11、(5 分)

$24-2+4=26$ (人)

12、(5 分)

$15-8-1=6$ (只), 或 $15-1-8=6$ (只), 或 $8+1=9$ (只) $15-9=6$ (只)

