



第一单元测试卷 (B)

一、看图写算式。




$$\square \circ \square = \square \quad (\quad)$$

口诀: _____

$$\square \circ \square = \square \quad (\quad)$$

口诀: _____


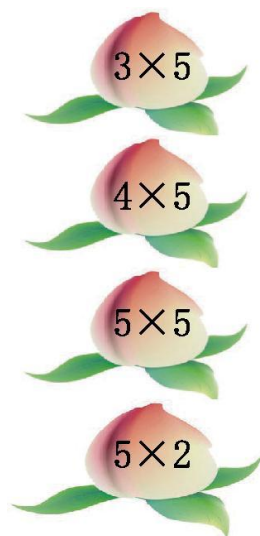


$$\square \circ \square \circ \square = \square \quad (\quad)$$

二、把口诀填写完整,并写出两道乘法算式。


二四得() ()得六 四()二十 ()四十二

三、小猴吃桃。





四、小猴摘桃。



五、在○里填上“>”“<”或“=”。

$2+2 \bigcirc 2 \times 2$

$3 \times 3 \bigcirc 3+3$

$3 \times 4 \bigcirc 5 \times 2$


$30-16 \bigcirc 3 \times 5$

$1 \times 5 \bigcirc 5+1$

$4+5 \bigcirc 5 \times 2$

六、解决问题。

1. 一共有多少个盒子？



$\square \times \square = \square \quad (\quad)$

2. 一座房子里住着 4 只小猫,一共住着几只小猫？



$\square \times \square = \square \quad (\quad)$






3. 买5张门票要用多少元?



$$\square \times \square = \square \quad (\quad)$$

4. 树上一共有多少只猴子?



$$\square \times \square + \square = \square \quad (\quad)$$

七、花朵遮住了几?

$$3 \times 2 + \text{flower} = 25 \quad \text{flower} = (\quad) \quad 3 \times 3 - \text{flower} = 5 \quad \text{flower} = (\quad)$$

$$2 \times \text{flower} + 3 = 9 \quad \text{flower} = (\quad) \quad 4 \times \text{flower} - 2 = 10 \quad \text{flower} = (\quad)$$





参考答案

一、 $3 \times 4 = 12$ (个) 或 $4 \times 3 = 12$ (个) 三四十二

$5 \times 5 = 25$ (条) 五五二十五

$3 \times 4 + 2 = 14$ (朵) 或 $5 \times 3 - 1 = 14$ (朵)

二、 八 $2 \times 4 = 8$ $4 \times 2 = 8$

二三 $2 \times 3 = 6$ $3 \times 2 = 6$

五 $4 \times 5 = 20$ $5 \times 4 = 20$

三 $3 \times 4 = 12$ $4 \times 3 = 12$

三、 (连线略)

$3 \times 5 = 15$ $5 \times 5 - 5 = 20$ $4 \times 5 = 20$ $5 + 5 = 10$

$5 \times 5 = 25$ $2 \times 5 + 5 = 15$ $5 \times 2 = 10$

$5 + 5 + 5 + 5 + 5 = 25$

四、 4 20 1 9 15 16

五、 = > > < < <

六、 1. $4 \times 4 = 16$ (个)

2. $4 \times 3 = 12$ (只) 或 $3 \times 4 = 12$ (只)

3. $5 \times 3 = 15$ (元) 或 $3 \times 5 = 15$ (元)

4. $5 \times 2 + 3 = 13$ (只) 或 $5 \times 3 - 2 = 13$ (只)

七、 19 4 3 3

