



### 教材过关卷(3)

一、我会填。(每空1分, 共19分)

1. 早上, 面对太阳升起的方向, 你的后面是( ), 左面是( ), 右面是( )。
2. 学校在小月家的北方, 小月家在学校的( )方。书店在小月家的东北方, 小月家在书店的( )方。
3. 向南行驶的汽车向右转弯后向( )方行驶, 这时它的左面是( )方, 右面是( )方。
4. 辨认图中人物的方位。



- (1) 爷爷在亮亮的( )方向, 爸爸在亮亮的( )方向。
- (2) 亮亮的南面是( ), 北面是( ), 东面是( ), 西面是( )。
- (3) 妈妈在丫丫的( )方向, 聪聪在丫丫的( )面, 小红在亮亮的( )方向。
5. 明明在放风筝时, 风筝线不小心被东南风吹断了, 风筝会随风飞向( )方向。
6. 李老师在讲台上面向同学们, 李老师面向的是西, 同学们面向的是( )。

二、我会辨。(对的画“√”, 错的画“×”)(每题2分, 共10分)





1. 指南针既能指南北, 还能辨别东西。 ( )
2. 与北极星相对的方向是西。 ( )
3. 小英面向南时, 她的左边是北。 ( )
4. 小李向西走了 30 米后, 因有事转向南走了 30 米, 他回到了原地。  
( )
5. 小康沿着直线先向西走, 再向北走, 这时他在出发点的东边。( )

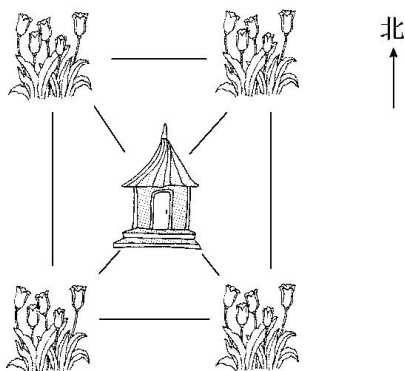
三、我会选。(把正确答案的字母填在括号里)(每题 2 分, 共 10 分)

1. 黄昏, 当你面对太阳时, 你的后面是( )。  
A. 东面                      B. 北面                      C. 南面
2. 明明从家到学校往返一次的路程是 1 千米, 那么明明家到学校的距离是( )。  
A. 2000 米                  B. 500 米                      C. 500 千米
3. 在一个工业园区内, 分别有四家工厂, 玩具厂在园区的西北角, 童装厂在玩具厂的斜对面, 童装厂在园区的( )。  
A. 东南角                  B. 西南角                      C. 东北角
4. 小红面向东, 她向左转 90 度, 这时她面向( )。  
A. 东面                      B. 北面                      C. 南面
5. 东东发现自己的影子在东面, 那么这时是( )。  
A. 早上                      B. 中午                      C. 傍晚

四、按要求涂色。(8 分)

李阿姨特别喜欢郁金香, 她在花圃里种了好多郁金香。



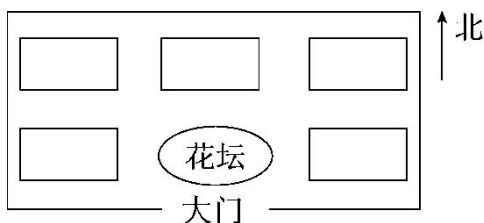


凉亭东南面是粉色郁金香；西北面是黄色郁金香；东北面是紫色郁金香；西南面是红色郁金香。

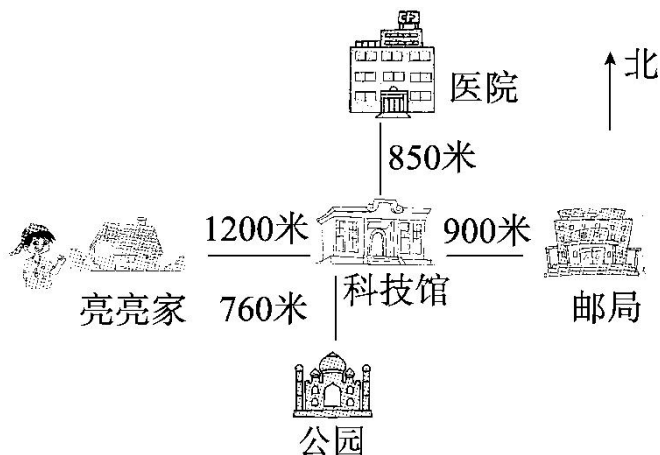
五、根据描述，把这些场所的序号标在适当的位置。(9分)

- ①大象馆 ②熊猫馆 ③猴山 ④飞禽馆 ⑤虎园

走进动物园大门，正北方向有花坛和猴山，花坛的西面是熊猫馆，熊猫馆的北面是大象馆，飞禽馆在花坛的东面，虎园在飞禽馆的北面。



六、观察图中亮亮家所在的位置，回答问题。(每题4分，共12分)



1. 亮亮从家先向( )走( )，再向( )走( )到公园。



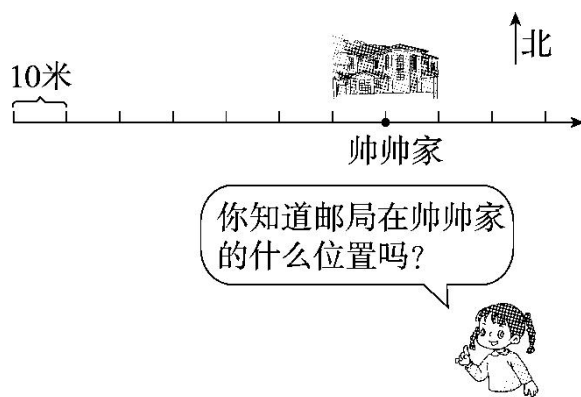


2. 邮局在医院的什么方向？

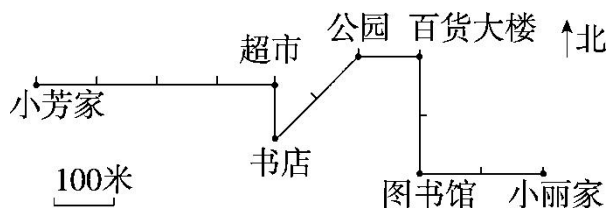
3. 亮亮家在公园的什么方向？

七、画一画。(8分)

在帅帅家西面 60 米的地方有一个游乐场，请用“△”标出游乐场的位置，  
在游乐场东面 20 米的地方有一个邮局，请用“□”标出邮局的位置。



八、看图填一填。(每空 2 分，共 24 分)



- 小丽从家出发，先向( )走( )米到图书馆，再向( )走( )米到百货大楼，最后向( )走( )米到公园。
- 小芳从家出发，先向( )走( )米到超市，再向( )走( )米到书店，最后向( )方向走( )米到公园。





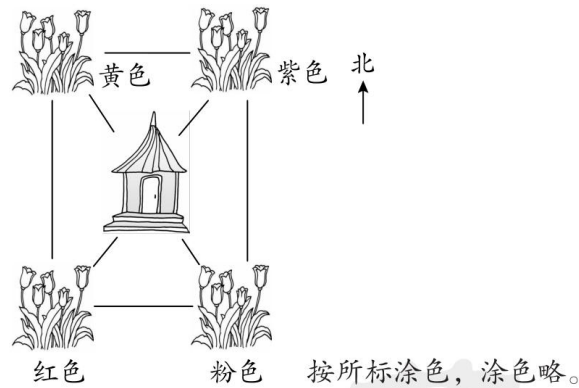
## 答案

- 一、1.西 北 南 2.南 西南  
3.西 南 北  
4. (1)西北 东北 (2)丫丫 奶奶 老师  
妈妈 (3)西北 东 西南  
5. 西北 6.东

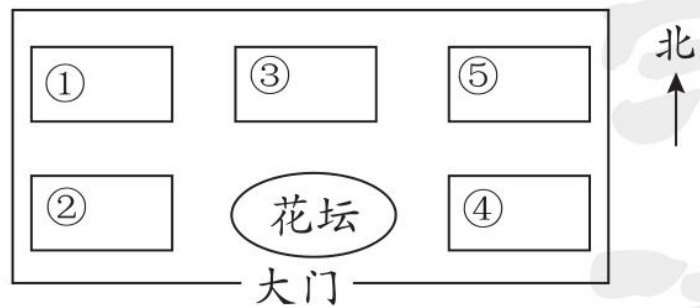
二、1.√ 2.× 3.× 4.× 5.×

三、1.A 2.B 3.A 4.B 5.C

四、



五、



六、1.东 1200米 南 760米

2. 邮局在医院的东南方向。

3. 亮亮家在公园的西北方向。

七、略

八、1.西 200 北 200 西 100

2. 东 400 南 100 东北 200

